

„Mleko i jego przetwory”



Część polonistyczna

Ćwiczenie 1

Przeczytaj tekst „Mleko”. Podkreśl właściwe odpowiedzi.

Mleko znane jest od dawna, jako wartościowy produkt. Najbardziej znane i najczęściej wykorzystywane przez człowieka jest mleko krowie. Równie często wykorzystuje się mleko kozie.

Mleko, to niezbędny składnik diety człowieka. Stanowi ono źródło wapnia, które pomaga w budowaniu kości. Mleko zaopatruje nasz organizm również w białko – podstawowy budulec naszych tkanek i komórek, a także w węglowodany, dostarczające nam energii każdego dnia. Bogactwo składników mineralnych oraz witamin. Pamiętać należy, że witamina A odpowiada za dobry wzrok, D – buduje mocne kości, a witaminy z grupy B mają wpływ na naszą skórę.

1. Mleko znane jest od dawna jako:

- a) wartościowy produkt
- b) mleczny napój
- c) mleczny i smaczny produkt.

2. Najczęściej wykorzystywane przez człowieka jest:

- a) mleko kozie
- b) mleko krowie
- c) mleko owiec.

3. Mleko stanowi źródło wapnia, które:

- a) wpływa na nasz wzrok
- b) pomaga w budowaniu kości
- c) dostarcza energii.

Ćwiczenie 2

Grupa I

Ułóż w kolejności alfabetycznej podane przetwory mleczne: zsiadłe mleko, żółty ser, biały ser, ser topiony, masło, śmietana, jogurt naturalny, kefir, maślanka.



Karta pracy

Klasa 3 –wrzesień – blok 5 – dzień 2

Ćwiczenie 2

Ułóż 2 zdania z wyrazami: mleko, żółty ser.

W pierwszym zdaniu policz i zapisz, z ilu wyrazów składa się zdanie, w drugim policz i zapisz liczbę sylab.



To zdanie składa się z wyrazów.

To zdanie składa się zsylab.

Grupa II

Ułóż w kolejności alfabetycznej podane przetwory mleczne: masło, śmietana, jogurt, maślanka, kefir.

Ćwiczenie 2

Policz i zapisz, z ilu wyrazów składa się zdanie.

Marek lubi makaron ze śmietaną.

To zdanie składa się z wyrazów.

Policz i zapisz, z ilu sylab składa się zdanie.

Karolina pije rano mleko.

To zdanie składa się z sylab.

Część matematyczna.

Zadanie 1

Sprawdź, czy potrafisz!

1 metr to cm.

1 kg to dag.

Rok mamiesiący.

Godzina tominut.

Pół roku to miesiący.

Pół metra tocm.

Pół kilograma to dag.

Karta pracy

Klasa 3 –wrzesień – blok 5 – dzień 2

Grupa I

Zadanie 2

Narysuj kwadrat, koło i prostokąt.

Podziel każdą figurę na połowę.



Zadanie 3

Narysuj kwadrat, koło i prostokąt.

Podziel każdą figurę na 4 równe części, czyli na ćwiartki.




Karta pracy

Klasa 3 –wrzesień – blok 5 – dzień 2

Grupa II

Zadanie 1

Zakreśl tylko te figury, które są podzielone na dwie równe części.



Zadanie 2

Zakreśl tylko te figury, które są podzielone na cztery równe części.

